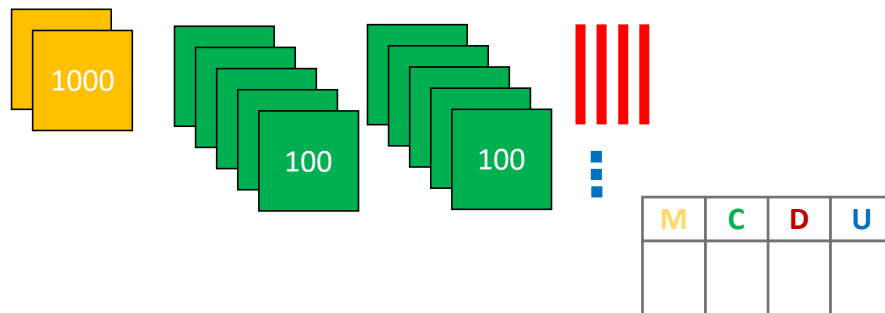
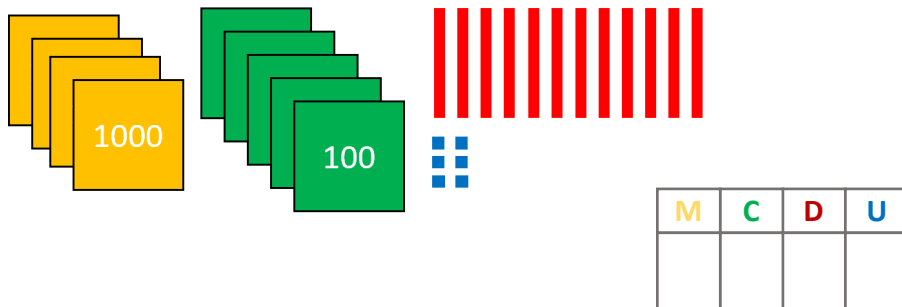


1. **Complète** le tableau en faisant les échanges nécessaires :



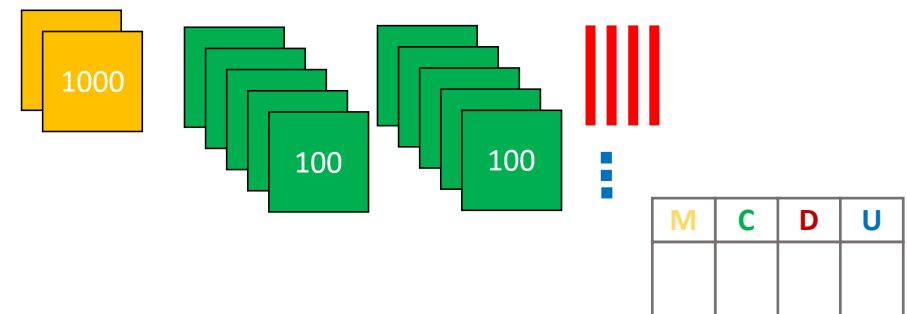
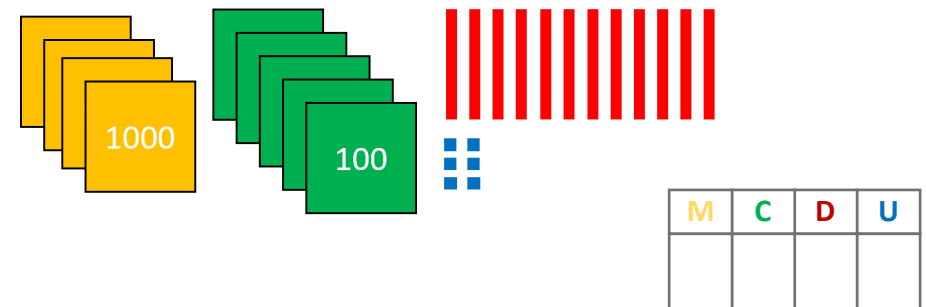
2. **Écris** en chiffres.

$$33C \ 5U = \dots\dots$$

$$2U \ 3D \ 50C = \dots\dots$$

$$1M \ 23C \ 9D = \dots\dots$$

1. **Complète** le tableau en faisant les échanges nécessaires :



2. **Écris** en chiffres.

$$33C \ 5U = \dots\dots$$

$$2U \ 3D \ 50C = \dots\dots$$

$$1M \ 23C \ 9D = \dots\dots$$